

1. चित्र देखकर शब्द का मिलान करो।



तितली



घर



नल



आम

2. घेरे वाले वर्ण को देखकर उन पर घेरा बनाओ।

ब

बस बतख तबला

अ

अमन अनार अपना अगर

न

नल मनका नमन नथ

ज

जगत जग गाजर गज

र

रथ रतन नर चरन

त

बतख तरबूज तलना तर

च

चरखा चरन चरना चमक

3. निम्न को बोलकर लिखो।

अमन घर चल ।

चमन आ अनार ला ।

मदन अमन अब लिख ।


4. निम्न वर्णों पर आ की मात्रा लगाओ ।

र घ ज त न ल ब म ख द

5. निम्न वर्णों पर इ की मात्रा लगाओ ।

त न ज ल द म ब

6. चित्र में रंग भरो ।



शिक्षक अभिमत:-

SA 1 योगात्मक मूल्यांकन 2018-19

नाम :- कक्षा :- द्वितीय विषय :- हिन्दी दिनांक :- / / 18

- तिरंगे झण्डे में कितने रंग होते हैं ?
(अ) पाँच (ब) तीन
(स) चार (द) छः ()
- बारिस के मौसम में कौन नाचता है ?
(अ) शेर (ब) बादल
(स) मोर (द) सूरज ()
- बच्चे किससे प्रार्थना कर रहे हैं ?
(अ) अध्यापक से (ब) माता-पिता से (स) गुरु से (द) ईश्वर से ()

- सही वाक्य के आगे सही (✓) व गलत वाक्य के आगे (X) का निशान लगाएँ ।
(अ) लोमड़ी ने बेल पर फूल देखे। ()
(ब) बीज पौधा बन गया था। ()
- उचित शब्दों का प्रयोग कर रिक्त स्थान भरो ।
(क) एक ----- बहुत भूखी थी।

(बिल्ली/लोमड़ी) (ख)

एक दिन बोली मुझसे ----- ।

(नानी/दादी) (ग)

मिट्टी में ----- नहाती है।

(चिड़िया/छतरी) 6.

सुन्दर लेख लिखे।

तीन रंग का अपना झंडा।

- निम्न पंक्तियाँ पढ़कर प्रश्नों के उत्तर दो।

एक दिन बोली मुझसे नानी;

मैं कहती तुम सुनो कहानी।

एक खेत बिन जुता पडा था;

ऊबड-खाबड बहुत बडा था।।

- (अ) कहानी किसने सुनाई ?

- (ब) खेत कैसा था ?

- जीजी के छोटे भाई का नाम क्या था ?

- तुम्हें बारिश में क्या-क्या अच्छा लगता है ?

- लोमड़ी ने बेल पर क्या देखे ?

- चित्रों को पहचान कर नाम लिखो।



- चित्र में रंग भरो व दो वाक्य लिखो।



- (1) -----

- (2) -----

शिक्षक अभिमत:-

SA 1 योगात्मक मूल्यांकन 2018-19

नाम :- कक्षा :- तृतीय विषय :- हिन्दी दिनांक :- / / 18

- मगन कैसा लडका था ?
(अ) बुरा (ब) अच्छा
(स) चतुर (द) धूर्त ()
- खरगोश को गुड खाते हुए किसने देखा ?
(अ) शेर (ब) बिल्ली
(स) मोर (द) लोमडी ()
- उचित शब्दों का प्रयोग कर रिक्त स्थान भरो।
(क) यह लोमडी ----- है। (मूर्ख/धूर्त)
(ख) सरस बनें प्रभु ----- बनें। (सरस/सरल)

- सुन्दर लेख लिखो।
पहला सुख - निरोगी काया।

- निम्नलिखित मूल शब्दों में 'ना' लगाकर शब्दों के क्रिया रूप बनाओ।

खा + ना = -----
हँस + ना = -----

- कौन कैसी बोली बोलता है ; मिलान करो।

चिडिया	गुन - गुन
मुर्गा	काँव - काँव
कौआ	चीं - चीं
भौरा	कुकडू - कूँ

- निम्न के पर्यायवाची शब्द लिखो ?

रात - -----
आँख - -----

- विलोम शब्द लिखो।

धर्म - -----
सत्य - -----

- निम्नांकित गद्यांश को पढ़कर प्रश्नों के उत्तर दो।


लोमडी बाजार की तरफ चल दी। उसने गुड का ढेर देखा। गुड देखकर सोचने लगी। खरगोश तो मूर्ख है। थोडा सा गुड लेकर ही वह खुश हो गया लेकिन मैं उसकी तरह निर्बल नहीं हूँ। दुकानदार को धमकाकर बहुत सारा गुड ले लूँगी।

- (1) यह पंक्तियाँ किस पाठ की है; नाम लिखो।

- (2) गुड देखकर लोमडी ने क्या सोचा ?

- (3) किसने कहा मैं निर्बल नहीं हूँ ?

10. चित्र देखकर चार - पाँच वाक्य लिखो।



- (1) -----
- (2) -----
- (3) -----
- (4) -----
- (5) -----

शिक्षक अभिमत :-

राजकीयविद्यालय,.....

SA 1 योगात्मक मूल्यांकन 2018-19

नाम :- कक्षा :- चतुर्थ विषय :- हिन्दी दिनांक :- / / 18

1. जंगल के सभी जीव मिलकर किसके पास पहुँचे ?

- (अ) सिंह (ब) खरगोश
(स) हिरण (द) भालू ()

2. दशहरा मनाया जाता है ?

- (अ) कार्तिक मास में (ब) श्रावण मास में
(स) आश्विन मास में (द) ज्येष्ठ मास में ()

3. उचित शब्दों का प्रयोग कर रिक्त स्थान भरो।

- (क) भारत माँ का ----- सुहाना।
(सदन/गगन)
(ख) ----- अमृत जल भर लाते।
(तालाब/बादल)

4. सुन्दर लेख लिखो।

एकता में बड़ा बल है।

5. योजक (-) चिन्ह के स्थान पर 'और' शब्द जोड़ते हुए दुबारा लिखो।

दिन-रात = -----

माता-पिता = -----

6. एकवचन से बहुवचन बनाओ।

लडकी -

रोटी -

7. निम्न के विलोम शब्द लिखो।

छाया -

पक्का -

8. जलाशय पर लोग क्या-क्या करते हैं ?

9. अगर पेड़ नहीं होते तो क्या होता ?

10. अरावली पर्वत के बीच कौनसा शहर है ?

11. वन में रहने वाले सिंह का नाम क्या था ?

12. वर्तनी की दृष्टि से सही शब्द पर सही(V) का चिन्ह लगाओ।

- सुंदर / सुनदर परिश्रम / परीश्रम
दरसनीय / दर्शनीय स्वस्थ / सवस्थ

13. चित्र देखकर कविता की चार पंक्तियाँ लिखो।



14. चित्र देखकर पहचानों और उनके नाम लिखो।



शिक्षक अभिमत
:-----

- एक वर्ष में महीनों की संख्या होती है ?
(अ) दस (ब) सात
(स) बारह (द) नौ ()
 - महात्मा जी के लिए दोनो भाई क्या लाए ?
(अ) सोना (ब) भोजन
(स) फल (द) कपडा ()
 - आजादी का दिवस मनाया जाता है ?
(अ) 15 अगस्त को (ब) 2 अक्टूबर को
(स) 5 सितम्बर को (द) 26 जनवरी को ()
 - उचित शब्द से रिक्त स्थानों की पूर्ति करो।
(क) हँसो और हँसाओ ----- पाओ।
(बुरा स्वास्थ्य/अच्छा स्वास्थ्य)
(ख) भोजन के बाद बताऊँगा कि कौन बुद्धि में
----- है ? (मूर्ख/श्रेष्ठ)
 - निम्न शब्दों के अर्थ लिखो।
संतान -----
लापरवाह -----
संसार -----
गाथा -----
 - नीचे लिखे शब्दों को एकवचन में लिखो
मिठाइयाँ -----
फुलवारियाँ -----
चिनगारियाँ -----
 - निम्न शब्दों में से पुल्लिंग व स्त्रीलिंग छँटकर लिखो।
लडका; मोर; बहिन; मिट्टी; बेटा; माता; बैल; लडकी
- | पुल्लिंग | स्त्रीलिंग |
|----------|------------|
| | |
- निम्न गद्यांश को पढकर प्रश्नों के उत्तर दो।

देवताओं ने एक उपाय सोचा। कमरे के किवाड बंद किए। आमने-सामने बैठ गए। लड्डू उठा-उठा कर एक दूसरे के मुँह में देने लगे। कुछ देर में थाल साफ हो गया। सारे लड्डू समाप्त हो गए। न हो-हल्ला न शोरगुल। देवताओं ने शांतिपूर्वक भोजन किया।

(1) उपरोक्त पंक्तियाँ किस पाठ से ली गई हैं ?

(2) देवताओं ने क्या उपाय सोचा ?

(3) देवताओं ने भोजन कैसे किया ?

9. बालकों की क्या जिम्मेदारी है ?

10. स्वस्थ तन से सुखी जीवन कैसे होता है ?

11. चित्र देखकर कविता की चार-पाँच पंक्तियाँ लिखो।



प्रथम योगात्मक आकलन / मूल्यांकन

(SA-I)
सत्र: -2018-19

विषय: अंग्रेजी

कक्षा: 1

विद्यालय का नाम

दिनांक.....

विद्यार्थी का नाम

रोल न.

1. Match the columns (समान चित्रों को आपस में मिलाओ)



2. Write the initial letter of the words.



....OW

....OW



....uck

....UCK



....xe

....XE



....all

....ALL

3. Match the letters (समान अक्षरों का आपस में मिलान कीजिए)

b

C

d

B

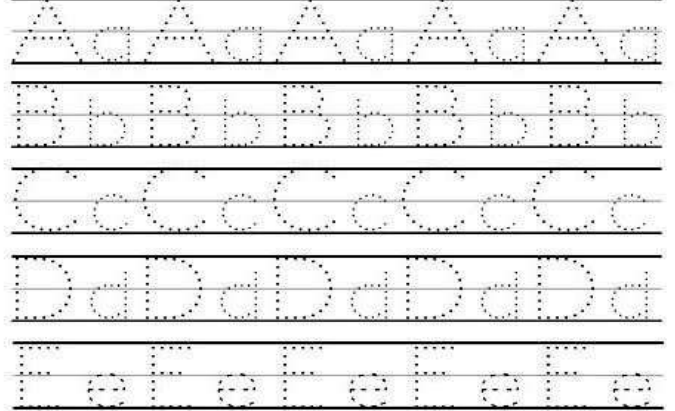
c

A


a

D









4. डॉट्स को मिलाकर अक्षरों को पूरा कीजिए।



5. Trace and Colour the picture. (चित्र को पूरा करके रंग भरो)



6. Match the Animals and their babies.



प्रथम योगात्मक आकलन / मूल्यांकन

सत्र: - 2018-19

विषय : अंग्रेजी

कक्षा : 2

विद्यालय का नाम

दिनांक.....

विद्यार्थी का नाम

रोल न.

1. Write the Names of pictures. (नीचे दिए चित्रों के नाम लिखो)







2. List the animals in appropriate columns.

Lion	dog	fox	horse
rabbit	bear	goat	cow
sheep	deer	monkey	tiger

Domestic Animals

Wild Animals

3. Fill in the missing letters.

(a). Cl_ss

(b). Broth_r

(c). Fam_ly

(d). M_ther

(e). Te_ple

(f). Ca_e

4. Match the words (समान शब्दों का आपस में मिलान कीजिए)

APPLE	tap
WELL	apple
BOY	tiger
TIGER	boy
TAP	girl
GIRL	well

5. Complete the blanks with the right Time.

<p>1. I wake up at ____.</p>	<p>2. I wash my face and brush my teeth at ____.</p>	<p>3. I get dressed at ____.</p>
<p>4. I have breakfast at ____.</p>	<p>5. I go to school at ____.</p>	<p>6. Classes start at ____.</p>
<p>7. I go home at ____.</p>	<p>8. I have lunch at ____.</p>	<p>9. I watch TV from ____ to ____.</p>
<p>10. I do my homework from ____ to ____.</p>	<p>11. I play computer games from ____ to ____.</p>	<p>12. I play soccer from ____ to ____.</p>
<p>13. I have dinner at ____.</p>	<p>14. I take a bath at ____.</p>	<p>15. I go to bed at ____.</p>

6. Write the nicknames of famous cities of Rajasthan.

Jaipur	
Udaipur	
Jodhpur	
Chittorgarh	
Jaisalmer	

7. Write the Hindi meaning of given words.

lazy	=
value	=
competition	=
wander	=
wish	=
ride	=
saint	=

प्रथम योगात्मक आकलन / मूल्यांकन
सत्र: - 2018-19

विषय : अंग्रेजी

कक्षा : 3

विद्यालय का नाम

दिनांक.....

विद्यार्थी का नाम


रोल न.

1. Look at the picture given below and write the names of fruits in the blanks.



- a. _____ b. _____
c. _____ d. _____
e. _____ f. _____

2. write five sentences about your grandparents with the help of following chart.




1. _____
2. _____
3. _____
4. _____
5. _____

3. Break down the following words in to two meaningful words.

- | | | |
|------------|-------|-------|
| inside | in | side |
| sunlight | _____ | _____ |
| outside | _____ | _____ |
| lunchbox | _____ | _____ |
| roommate | _____ | _____ |
| toothbrush | _____ | _____ |
| bathroom | _____ | _____ |

4. Look at the pictures given below. Write their names choosing from the box.

well, river, pond, stream, lake, tubewell, tanka, handpump



5. Fill in the blanks by choosing the appropriate words that are given in the box.

garbage, homework, city, pencil, dustbin

1. Arun was doing his
2. There was a heap of near the wall.
3. We must keep our clean.
4. Arun threw the wrapper of toffee into the

6. Write the Hindi meaning of given words.

- | | | |
|----------|---|--------|
| temple | = | मन्दिर |
| statues | = | |
| healthy | = | |
| rude | = | |
| carrying | = | |
| dustbin | = | |
| blessing | = | |
| work | = | |
| happy | = | |

प्रथम योगात्मक आकलन / मूल्यांकन
सत्र: - 2018-19

विषय : अंग्रेजी

कक्षा : 4

विद्यालय का नाम

दिनांक.....

विद्यार्थी का नाम

रोल न.

1. Write one word for group of words given below.

1. A place where we live in : h.....
2. The children with whom you run and play : f.....
3. The supreme being in the world : G.....
4. The part of the day when we can't see the sun : n.....

2. Write the plural forms of the nouns.

1. tooth
2. night
3. hand
4. finger
5. ray
6. toe
7. foot
8. day
9. nose
10. child
11. answer book
12. shoe


3. Write the names of the parts of a peacock's body.

1.
2.
3.
4.
5.

4. Form some more words by adding 'ful' to each.

1. wonder.....
2. care.....
3. use.....
4. hope.....
5. harm.....

5. Draw a picture of peacock and colour it.



6. Fill in the blank using the words given in the box.

fast, python, worry, award, bravery

1. Don't I am always with you.
2. A tiger runs very
3. Maharana Pratap is known for his
4. Churu saw a In the zoo.
5. Saroj got an in the drawing competition in our school.

7. Write ten sentences how people use water every day. you may use the following words in your answer.

use, water, drinking, cooking, washing, bathing, sweeping, the floor, watering plants, trees, growing, vegetables, wheat etc.

.....

.....

.....

.....

.....

.....

.....

.....

.....

.....

8. Write the correct form of each verb given in the bracket.

1. Food.....(cook) by my mother.
2. Houses.....(whitewash) at Deepawali.
3. Many things.....(sell) in the market.
4. Rubbish.....(throw) in to a dustbin.
5. Thieves.....(catch) by the police.
6. Houses.....(build) with bricks and cement.

9. Write the Hindi meaning of given words.

- celebrated = आयोजन किया गया
- devotees =
- grazing =
- suddenly =
- python =
- worry =

विद्यालय का नाम

दिनांक.....


विद्यार्थी का नाम

रोल न.

1. According to poem ' We shall Overcome what makes us free ?
A . courage
B . victory
C . peace
D . truth

()

2. Write the names of these Yogasans.



3. Complete the following sentences by choosing appropriate words from the box.

promise, trap, danger, herd
ready, pond, quickly, realized

1. Mahesh is always To play cricket.
2. My father To take me to the fair today.
3. The fox was caught in a
4. Suman her mistake.
5. I saw a frog in the Behind my home.
6. He Finished his homework.

4. Write five sentences describing how you help your elder brothers and sisters.

- 1.
- 2.
- 3.
- 4.
- 5.

5. Match the following things with the words they are used for.


A

B

piece of cloth
broom
chalk
dustbin
stool

to throw garbage in
to wipe the floor
to sit upon
to clean dirt / dust
to write on the blackboard

6. Match the colour with their names.



7. Write a note on how you celebrated Dussehra last time.

.....
.....
.....
.....
.....

8. Write the Hindi meaning of given words.

pleasant = सुहावना
reduce =
herd =
realize =
household =
ample =

SA 1 योगात्मक मूल्यांकन 2018-19

नाम :- कक्षा :- 3 विषय :- पर्यावरण दिनांक :- / / 18

1. तालिका देखकर बताइए; आप इन रिश्तों को क्या कहते हैं ?

मेरे/मेरी	संबंध
माँ की बहिन	
चाचा की पत्नि	
पिताजी की बहिन	
ताऊ जी का	
लडका माँ के भाई	

2. आपके मित्र कौन-कौन हैं ? उनके नाम लिखो।

.....

3. चेतक कौन था ?

.....

4. निम्न तालिका को भरो।

घर में खेले जाने वाले खेल	मैदान में खेले जाने वाले खेल

5. आप नीचे दिए अंगों की सफाई कैसे करते हो ?

हाथ	
दाँत	
कान	
शरीर	

6. उन पौधों के नाम लिखो जिनकी पत्तियों से सब्जी बनाई जाती है।

.....

7. नीचे दी गई पत्तियों व उनके फलों का मिलान कीजिए।

(इमली; नींबू; पपीता; केला; अनार)



8. निम्न जन्तुओं के आवास के बारे में लिखो।



.....

.....

.....

.....

.....

.....

9. इन्द्रधनुष में कौन-कौनसे रंग हैं ? नाम लिखो ।



10. रेगिस्तान का जहाज ऊँट कई दिनों तक पानी किए बिना कैसे रहता है ?

11. चित्र देखकर बताओ ।



(1) ये औरतें कहाँ जा रही हैं ?

(2) ये औरतें कहाँ से आ रही हैं ?

(3) हमें पीने का पानी कहाँ-कहाँ से मिलता है ?

12. निम्न तालिका में पूछी गई जानकारियाँ भरो ।

क्या आप जानते हैं ?	जीव-जन्तु का नाम
रात में देख सकते हैं	
जो घास खाते हैं	
जो अनाज के दाने खाते हैं	
जिन्हें हम पालते हैं	

शिक्षक अभिमत :-

SA 1 योगात्मक मूल्यांकन 2018-19

नाम :- कक्षा :- चतुर्थ विषय :- पर्यावरण दिनांक :- / / 18

1. चित्र देखकर ज्ञानेन्द्रियों के नाम लिखो



2. झुंड में रहने वाले जानवरों पर घेरा लगाओ।



3. निम्न तालिका को भरो।

क्रम सं०	नाम जानवर	क्या कान दिखाई देते हैं? (हाँ/नहीं)	क्या शरीर पर बाल हैं? (हाँ/नहीं)	बच्चे देता है	अंडे देता है
1	जिराफ				
2	गाय				
3	तोता				
4	हाथी				
5	चिड़िया				

4. अपने आस-पास पाए जाने वाले पेड़-पौधों के नाम तालिका में लिखो।

फल वाले	सब्जी वाले	अनाज वाले	दाल वाले

5. निम्नलिखित के दो-दो नाम लिखो।

(1) जडे जो हम खाते हैं। _____

(2) तना जो हम खाते हैं। _____

6. राजस्थान के राज्य वृक्ष का नाम लिखो।

7. पेड़-पौधे हमारे क्या काम आते हैं ?

8. निम्न फूलों के नाम व रंग लिखो।

फूल नाम रंग







9. मधुमक्खियाँ शहद कैसे बनाती है ?

10. कबड्डी का मैदान कितना लंबा-चौड़ा होता है ?

11. प्राथमिक चिकित्सा पेटी में क्या-क्या होता है ?

12. चित्र देखकर बताओ ये कौनसा खेल खेल रहे हैं?



13. आप किन-किन चीजों को पहचान सकते हो ? उनके नाम लिखो।

चखकर	
सूँघकर	
सुनकर	

14. चित्र देखकर पहचानों व परिवार के सदस्यों के नाम लिखो।




15. आपके ननिहाल में कौन-कौन हैं ? उनके नाम लिखो।

16. आपका परिचय लिखो।

आपका नाम	
पापाजी का नाम	
मम्मी का नाम	
आपके भैया/बहिन का नाम	
आपके गाँव का नाम	
आपकी तहसील का नाम	
आपके जिले का नाम	

17. निम्न चित्र में रंग भरो।



शिक्षक अभिमत :-

विद्यालय का नाम

दिनांक.....

विद्यार्थी का नाम

रोल न.

1. ब्रेल लिपि का आविष्कार किसने किया था ?

(अ) थॉमसन ने (ब) लुई ब्रेल ने

(स) स्टीव ब्रेल ने (द) एडीसन ने

()

2. आपकी माताजी की बहिन के साथ आपका क्या रिश्ता है ?

उत्तर -

3. लोगो के घरों को छोड़ने के क्या-क्या कारण हैं ? लिखो।

उत्तर -

4. खेलों एवं उनके प्रसिद्ध खिलाड़ियों का सही मिलान करो।

तैराकी	मेरिकॉम
तीरन्दाजी	भक्ति शर्मा
मुक्केबाजी	सचिन तेन्दुलकर
क्रिकेट	लिम्बाराम



5. साफ़-सफाई हमारी आदत बन जाए' इस हेतु हमें क्या करना चाहिए ?

उत्तर -

6 रिक्त स्थानों की पूर्ति करो।

- बीजों का अंकुरण परिस्थितियों में ही होता है।
- बीज अलग-अलग तरीकों से इधर-उधर फैलकर होते हैं।
- पेड़ हमारे लिए बहुत है इसलिए हमें पेड़ों को नहीं चाहिए।
- जंगल में एक जीव दूसरे जीव को खाता है इस प्रकार बनती है।

7. दिए गए चित्रों को पहचान कर इनकी एक-एक विशेषता नीचे रिक्त स्थानों में लिखिए।



-
-
-
-

8. दिए गए चित्रों को पहचान कर सम्बंधित खेलों के नाम उनके नीचे लिखो।



9. निम्नांकित तालिका के जन्तुओं की विशेषता लिखिए।

क्र. सं.	जंतु का नाम	भोजन प्राप्त करने का तरीका	चलना/तैरना/उड़ना
1.			
2.			
3.			
4.			
5.			

प्रथम योगात्मक आकलन / मूल्यांकन

सत्र: - 2018-19

विषय : गणित

कक्षा : 1

विद्यालय का नाम

दिनांक.....


विद्यार्थी का नाम

रोल न.

1. बड़े चित्र पर सही (✓) का निशान लगाइए।



2. छोटे चित्र पर सही (✓) का निशान लगाइए।



3. निम्नांकित चित्र में लुढ़कने वाली चीजों पर गोला बनाइए।




4. बिन्दुओं को मिलकर 1 से 10 तक की संख्याएँ लिखो

1 2 3 4 5 6 7 8 9 10
 1 2 3 4 5 6 7 8 9 10
 1 2 3 4 5 6 7 8 9 10
 1 2 3 4 5 6 7 8 9 10
 1 2 3 4 5 6 7 8 9 10
 1 2 3 4 5 6 7 8 9 10

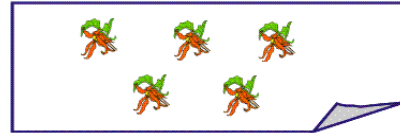
5. चित्रों को गिनकर सही संख्या से मिलान कीजिए।




4



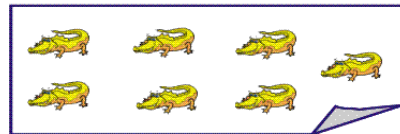
5



6

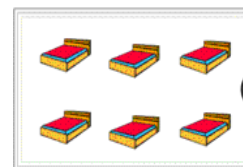



7



8

6. चित्रों को गिनिए और संख्या में बराबर चित्रों से मिलान कीजिए।



प्रथम योगात्मक आकलन / मूल्यांकन

सत्र: - 2018-19

विषय : गणित

कक्षा : 2

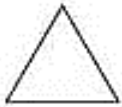
विद्यालय का नाम

दिनांक.....

विद्यार्थी का नाम

रोल न.

1. वस्तु एवं उसकी आकृति से मिलान कीजिए



2. निम्नांकित चित्र में खिसकने वाली चीजों पर गोला बनाइए।






3. बिन्दुओं को मिलकर 1 से 10 तक की संख्याएँ लिखो

आकृति	आकृतियों के नाम
वृताकार	रोटी,
चौकोर	माचिस,
तिकोनी	समोसा,

4. चॉक के डिब्बे के किनारे कितने होते हैं


उत्तर -

5. दिए गए चित्रों को देखकर नीचे दी गई सारणी को भरें।



वस्तुएँ	आकृतियों के नाम
गेंद जैसी
संदूक जैसी
ड्रम जैसी

6. सही गुब्बारा पकड़ाइए।



प्रथम योगात्मक आकलन / मूल्यांकन

सत्र: - 2018-19

विषय : गणित

कक्षा : 3

विद्यालय का नाम

दिनांक.....

विद्यार्थी का नाम

रोल न.

1. सारणी में छु टी हुई संख्याएँ लिखो

201		203	204	205	206	207
208		210		212		214
215	216		218	219		221
222		224	225		227	228
229	230	231		233	234	
236		238	239	240		242
243	244		246		248	249
250		252	253		255	
257		259	260		262	263

2. संख्याओं 27 और 24 का योग कितना होगा ?

- A. 53
B. 51
C. 56
D. 50

सही उत्तर =

3. किसी भी तरीके से इन सवालों को हल कीजिए।

$\begin{array}{r} 24 \\ - 12 \\ \hline \end{array}$	$\begin{array}{r} 57 \\ - 23 \\ \hline \end{array}$	$\begin{array}{r} 89 \\ - 73 \\ \hline \end{array}$
---	---	---

$\begin{array}{r} 66 \\ - 55 \\ \hline \end{array}$	$\begin{array}{r} 22 \\ - 11 \\ \hline \end{array}$	$\begin{array}{r} 20 \\ - 12 \\ \hline \end{array}$
---	---	---

4. योग कीजिए

$\begin{array}{r} 74 \\ + 12 \\ \hline \end{array}$	$\begin{array}{r} 57 \\ + 98 \\ \hline \end{array}$	$\begin{array}{r} 89 \\ + 55 \\ \hline \end{array}$
---	---	---

$\begin{array}{r} 78 \\ + 55 \\ \hline \end{array}$	$\begin{array}{r} 22 \\ + 15 \\ \hline \end{array}$	$\begin{array}{r} 20 \\ + 56 \\ \hline \end{array}$
---	---	---

5. गुणा करो।

$\begin{array}{r} 24 \\ \times 2 \\ \hline \end{array}$	$\begin{array}{r} 57 \\ \times 3 \\ \hline \end{array}$	$\begin{array}{r} 89 \\ \times 4 \\ \hline \end{array}$	$\begin{array}{r} 89 \\ \times 2 \\ \hline \end{array}$
$\begin{array}{r} 66 \\ \times 9 \\ \hline \end{array}$	$\begin{array}{r} 22 \\ \times 7 \\ \hline \end{array}$	$\begin{array}{r} 20 \\ \times 5 \\ \hline \end{array}$	$\begin{array}{r} 20 \\ \times 8 \\ \hline \end{array}$



6. भाग करो।

$\begin{array}{r} 24 \\ \div 2 \\ \hline \end{array}$	$\begin{array}{r} 54 \\ \div 9 \\ \hline \end{array}$	$\begin{array}{r} 88 \\ \div 8 \\ \hline \end{array}$	$\begin{array}{r} 15 \\ \div 3 \\ \hline \end{array}$
$\begin{array}{r} 66 \\ \div 6 \\ \hline \end{array}$	$\begin{array}{r} 22 \\ \div 2 \\ \hline \end{array}$	$\begin{array}{r} 20 \\ \div 5 \\ \hline \end{array}$	$\begin{array}{r} 21 \\ \div 7 \\ \hline \end{array}$

7. 2 से 11 तक के पहाड़े लिखिए।

2	3	4	5	6	7	8	9	10	11
4									
6									
8									
10									
12									
14									
16									
18									
20									

8. चित्रों को गिनो, जोड़ो और दिए गई सही संख्या पर गोला बनाओ।

	+		=	15
				16
				17

प्रथम योगात्मक आकलन / मूल्यांकन

सत्र: - 2011-11

विषय : गणित

कक्षा : 4


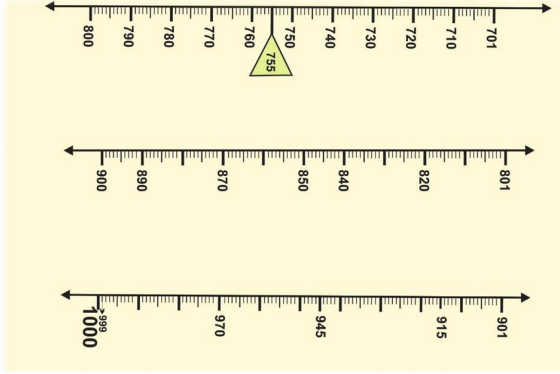
विद्यालय का नाम

दिनांक.....

विद्यार्थी का नाम

रोल न.

1. नीचे कुछ आकृतियों में संख्याएँ लिखी गई हैं तो इनको उपयुक्त स्थान पर टांगिये।



2. एकाधिके न पूर्वेण द्वारा योग कीजिए।

$$(i) \begin{array}{r} 28 \\ + 15 \\ \hline \end{array} \quad (ii) \begin{array}{r} 36 \\ + 28 \\ \hline \end{array}$$

$$(iv) \begin{array}{r} 53 \\ + 49 \\ \hline \end{array} \quad (v) \begin{array}{r} 67 \\ + 54 \\ \hline \end{array}$$

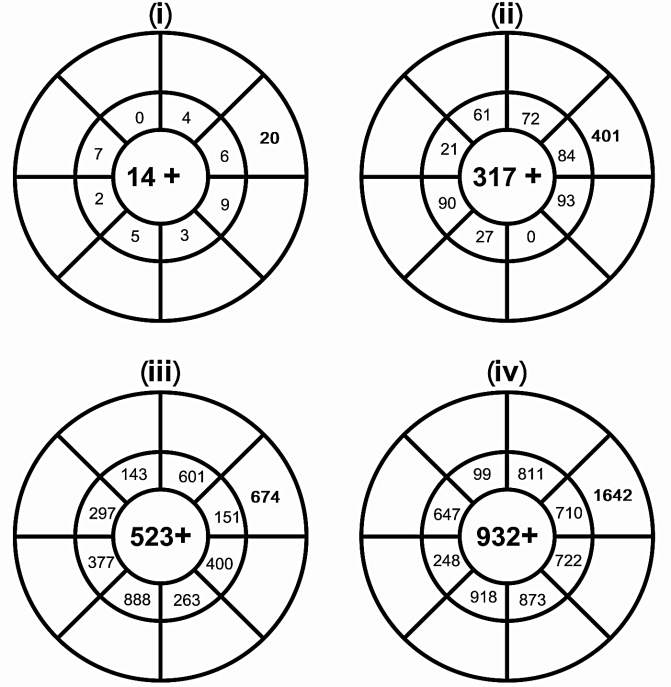
3. उचित चिहनों (>, = तथा <) को घेरे \bigcirc में लगाइए।

- (i) तीन सौ सैंतालीस \bigcirc सात सौ तियालीस
 (ii) पाँच सौ नौ \bigcirc नौ सौ पाँच
 (iii) 789 \bigcirc सात सौ उनासी
 (iv) 848 \bigcirc आठ सौ अडतालीस
 (v) नौ सौ बावन \bigcirc 957
 (vi) छः सौ पाँच \bigcirc पाँच सौ छः

4. दिए गए चित्र से वृत्त, आयत, त्रिभुज व वर्ग को गिनकर उनकी संख्या नीचे दी गई तालिका में लिखिए।

आकृति				
संख्या				

5. हल कीजिए।

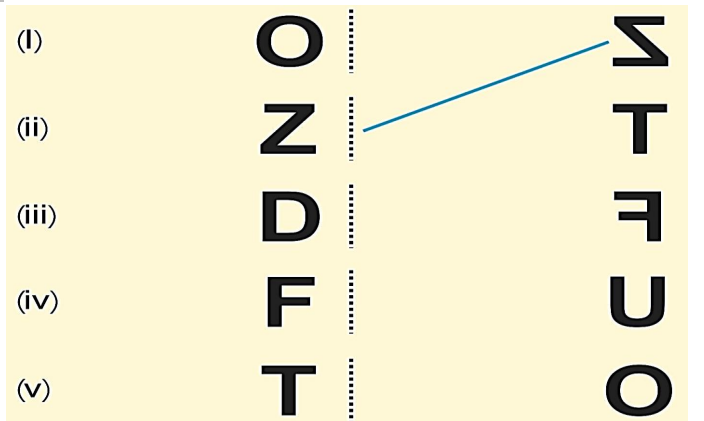


6. देवनागरी अंकों का योग कीजिए।

$$(i) \begin{array}{r} ७६ \\ ३५ \\ + १३ \\ \hline \end{array} \quad (ii) \begin{array}{r} ५६ \\ २३ \\ + २८ \\ \hline \end{array} \quad (iii) \begin{array}{r} ८२ \\ ६५ \\ + ७५ \\ \hline \end{array}$$

$$(iv) \begin{array}{r} ८६२ \\ ४४९ \\ + २६५ \\ \hline \end{array} \quad (v) \begin{array}{r} ६३६ \\ ५०६ \\ + २६८ \\ \hline \end{array} \quad (vi) \begin{array}{r} ३६७ \\ ३०७ \\ + ८०० \\ \hline \end{array}$$

7. अक्षरों से उनके प्रतिबिम्बों का मिलान कीजिए



प्रथम योगात्मक आकलन / मूल्यांकन

सत्र: - 2018-19

विषय : गणित

कक्षा : 5

विद्यालय का नाम

दिनांक.....

विद्यार्थी का नाम

रोल न.

1. नीचे दिए गए विस्तारित रूप को संख्या के रूप में लिखिए

(i) $40000 + 5000 + 700 + 70 + 2$

(ii) $60000 + 0000 + 000 + 20 + 6$

(iii) $30000 + 9000 + 900 + 00 + 8$

(iv) $50000 + 2000 + 800 + 10 + 1$

(v) $80000 + 0000 + 000 + 00 + 8$

2. मोहन के पास 10000 रुपये हैं। उसने 4500 रुपये के गेहूँ खरीदे तथा 1600 रुपये के चावल खरीदे बताओ उसके पास कितने रुपये शेष बचे ?

3. रिक्त स्थानों की पूर्ति कीजिए।

(भागफल X भाजक) + = भाज्य

4. देवनागरी लिपि के अंकों के साथ भाग कीजिए

(i) $६८४ \div १६$

(ii) $७२५ \div २५$

5. आधार 10 पर सूत्र निखिलम विधि द्वारा गुणा कीजिए।

(1) 12×9

(2) 15×12

(5) 14×11

(6) 9×16

6. संख्या 2, 5 तथा 8 के गुणज लिखो।

2 के गुणज
$1 \times 2 = 2$

5 के गुणज
$1 \times 5 = 5$

8 के गुणज
$1 \times 8 = 8$

7. बॉक्स में $>$, $<$, $=$ का निशान लगाइए।

(i) $\frac{1}{4}$ $\frac{3}{4}$

(ii) $\frac{1}{2}$ $\frac{1}{2}$

(iii) $\frac{1}{3}$ $\frac{1}{2}$

(iv) $\frac{1}{4}$ $\frac{2}{3}$